

































## ENIGME du MARDI

On a écrit en fin de chaque ligne et de chaque colonne la somme des quatre symboles.

Remplacez les symboles de cette grille par des chiffres pour que les égalités soient vraies.

				=18
				=24
				=11
				=19

=   =   =   =  
18   23   11   20

				=26
				=26
				=25
				=22

=   =   =   =  
25   20   31   23